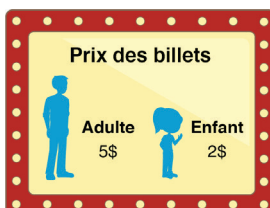




Évaluation de l'apprentissage des élèves
Numératie 3^e année
Exemple de tâche de rendement : Le zoo

Activité 1

Monsieur Smith achète des billets pour un TOTAL de 60 \$. Décide combien d'adultes et d'enfants il peut emmener au zoo.



Utilise des illustrations, des mots ou des nombres pour montrer ton raisonnement.

<p>Adulte – 5 \$</p> 	
<p>Enfant – 2 \$</p> 	

Activité 2

Monsieur Smith achète des billets pour un TOTAL de 60 \$. Chaque groupe comprend 5 élèves et au moins 1 adulte. Décide combien de groupes peuvent aller au zoo.

Utilise des illustrations, des mots ou des nombres pour montrer ton raisonnement.

